

# Cuaderno de actividades **de primavera**

Juegos para divertirse y mantener la memoria


Edición del mes

**Abril  
2026**

OBSERVAR



CALCULAR



ESCRIBIR



...Nos vemos el mes que viene para una nueva edición...

**famileo**



**MU**

Estudio de creación de juegos  
[www.muni-creation.fr](http://www.muni-creation.fr)

Anagramas - Código - Dibujo y mucho más

**famileo**

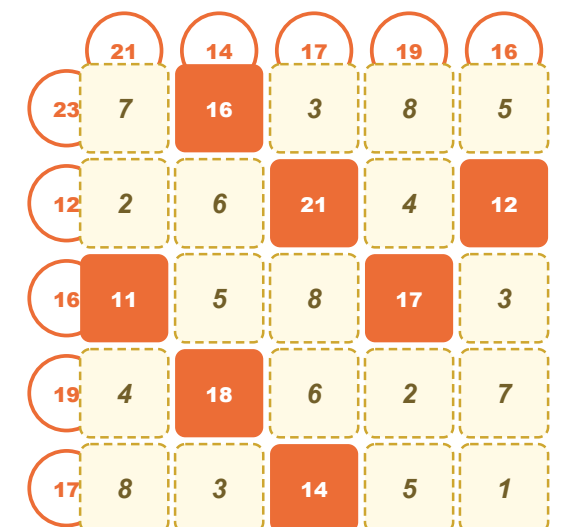
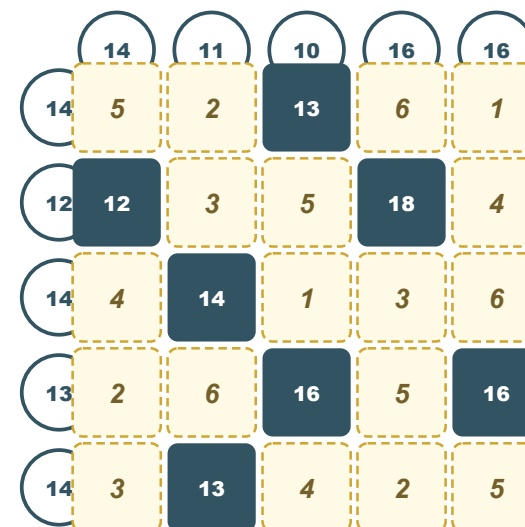
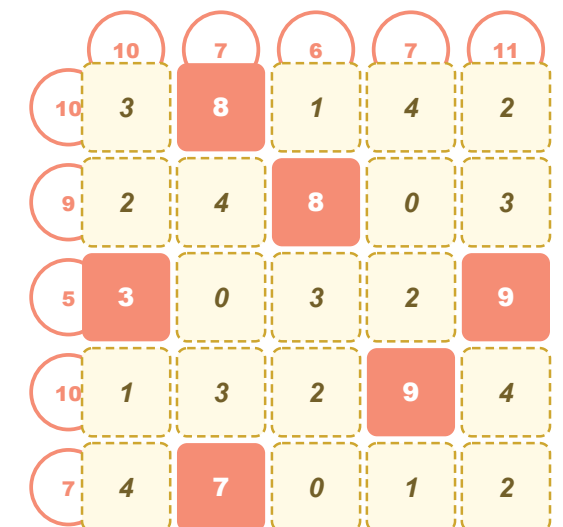
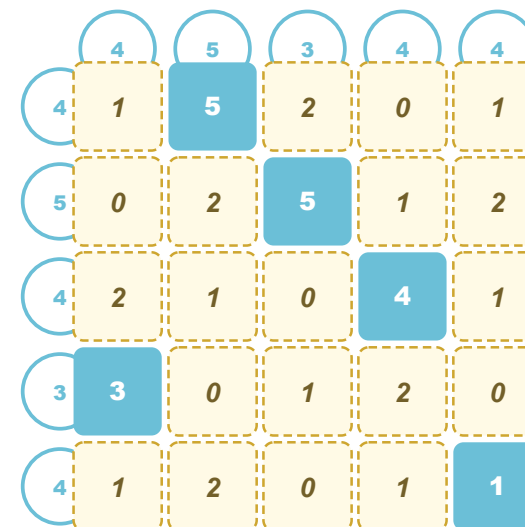


# Índice

Los dados correctos.....	Página 3
¿Quién es el artista?.....	Página 4
Reloj de arena.....	Página 5
Código bloqueado.....	Página 6
La carrera.....	Página 7
Correas enredadas.....	Página 8
Anagramas.....	Página 9
Sumito.....	Página 10
Dibujo para completar.....	Página 11
Soluciones.....	Página 12

## Sumito

## Solución



# Anagramas

Solución

REMAPTIZER	▶	EMPERATRIZ
MADEVILE	▶	MEDIEVAL
RANOMSO	▶	ROMANOS
R FAÓAN	▶	FARAÓN
PIRÁMDEI	▶	PIRÁMIDE
GADILADOR	▶	GLADIADOR
MAROCAN	▶	MONARCA
ROEVLUCIÓN	▶	REVOLUCIÓN
IMIPEOR	▶	IMPERIO
RFOTLEZAA	▶	FORTALEZA




# Los dados correctos

Dificultad



Para cada situación, observa bien la plantilla del dado (la forma desplegada) y luego mira los tres dados propuestos. ¿Qué dado no se puede construir con esta plantilla? Rodea el dado que no puede corresponder.





# ¿Quién es el artista?

- Especial primavera -

Observa atentamente estos cuatro cuadros.  
Cada obra ha sido realizada por un gran pintor.  
Para cada uno, lee la pista e intenta encontrar el nombre del artista.



Se ve una mesa con manzanas,  
una botella y una tela blanca.  
Este pintor francés es famoso  
por sus naturalezas muertas con manzanas.  
**¿Qué artista pintó este cuadro?** \_\_\_\_\_


Un jarrón lleno de girasoles amarillos.  
Este pintor holandés es famoso  
por sus cuadros muy coloridos.  
**¿Qué pintor realizó este cuadro?** \_\_\_\_\_



Un rostro formado por flores y plantas.  
Este pintor italiano es conocido por sus retratos  
hechos con frutas y flores.  
**¿Quién pintó este cuadro?** \_\_\_\_\_



Un campo de amapolas rojas  
con personajes que pasean.  
Este pintor francés es uno de los grandes  
maestros del impresionismo.  
**¿Qué artista pintó este paisaje?** \_\_\_\_\_



Dificultad



Solución

## Correas enredadas





# La carrera

Solución



	TEMPORADAS	COLOR
CARLOS	8	ROJO
MATEO	7	AZUL
DIEGO	9	AMARILLO



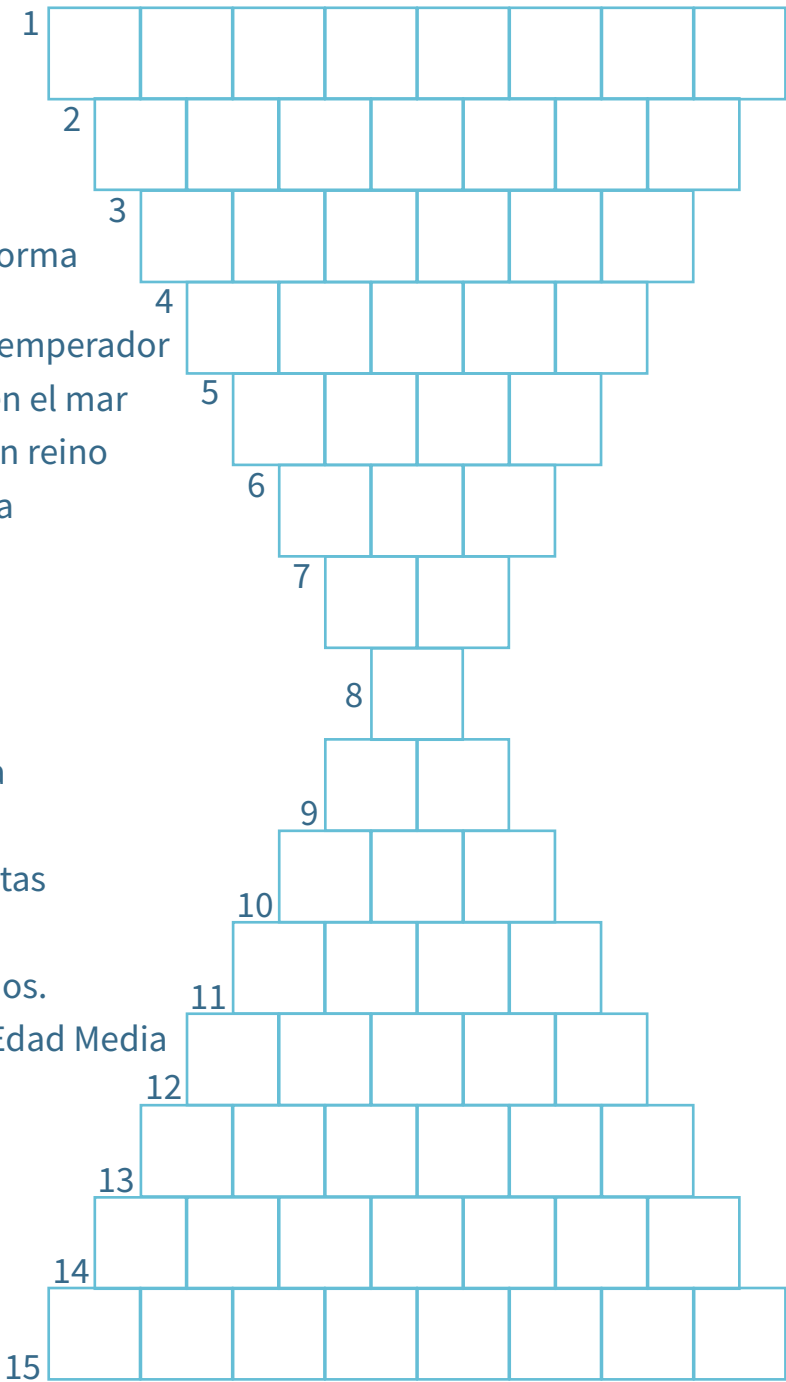
# Reloj de arena

Dificultad



Cada definición corresponde a una palabra por encontrar.  
Lee cada definición y escribe la palabra correspondiente en la cuadrícula.

- Monumento antiguo con forma triangular
- Estado gobernado por un emperador
- Ladrón que ataca barcos en el mar
- Hombres que gobiernan un reino
- Satélite natural de la Tierra
- Estrella que da luz y calor
- Creencia fuerte
- Indica una elección
- Moverse a otro lugar
- Gran masa de agua salada
- Piedra grande y dura
- Conjunto de páginas escritas
- Arma larga con filo
- Objetos valiosos escondidos.
- Gran edificio fuerte de la Edad Media





# Código bloqueado

Dificultad



Con ayuda de las pistas, intenta descifrar el código de cada candado.

**Correcto:** la cifra correcta está en la posición correcta del código.

**Mal colocado:** la cifra correcta está presente, pero no está en la posición correcta.



Código

1 correcto  
1 mal colocado

2 5 3 1

0 correcto  
1 mal colocado

5 1 2 6

0 correcto  
1 mal colocado

5 9 3 4

2 correcto  
0 mal colocado

5 0 4 3

0 correcto  
1 mal colocado

5 1 4 8



Código

1 correcto  
1 mal colocado

2 7 0 1

0 correcto  
1 mal colocado

1 3 9 5

0 correcto  
2 mal colocado

9 5 2 0

0 correcto  
2 mal colocado

6 1 2 9

1 correcto  
1 mal colocado

5 0 6 4

# Código bloqueado

Solución



2 0 8 3



2 0 3 6



Reloj de arena

Solución

1

P

I

R

Á

M

I

D

E

2

I

M

P

E

R

I

O

3

P

I

R

A

T

A

4

R

E

Y

E

S

5

L

U

N

A

6

S

O

L

7

F

E

8

O

9

I

R

10

M

A

R

11

R

O

C

A

12

L

I

B

R

O

13

E

S

P

A

D

A

14

B

A

T

A

L

L

A

15

C

A

S

T

I

L

L

O



La carrera

Dificultad



Tres ciclistas participan en una carrera.  
Con ayuda de las pistas, encuentra el número de temporadas de experiencia y el color de la bicicleta de cada uno.



Tres ciclistas profesionales, **Carlos**, **Mateo** y **Diego**, participan en una carrera y cada uno recibe una bicicleta de un color diferente: **rojo**, **azul** y **amarillo**.  
Uno de los ciclistas tiene **7** temporadas de experiencia, el segundo **8** temporadas y el tercero **9** temporadas.

**Pistas:**  
Carlos monta en la bicicleta roja. No tiene 7 temporadas de experiencia.  
Diego, que tiene más de 8 temporadas de experiencia, monta en la bicicleta amarilla.

	TEMPORADAS	COLOR
CARLOS		
MATEO		
DIEGO		



## Correas enredadas

– Especial primavera –

Observa bien la imagen y sigue cada correa del perro hasta su dueño. ¡Cuidado, las correas se enredan!  
¿Sabrás encontrar a quién pertenece cada perro?

Dificultad



## ¿Quién es el artista?

Solución



**Paul Cézanne**

Este cuadro muestra una naturaleza muerta con manzanas. Cézanne pintaba a menudo frutas y objetos simples para estudiar formas y colores.




**Vincent van Gogh**

Los girasoles son una de las series más famosas de Van Gogh. Usaba colores muy vivos y pinceladas marcadas para dar vida a sus cuadros.



**Giuseppe Arcimboldo**

Arcimboldo es conocido por sus retratos hechos con elementos de la naturaleza. En este cuadro, el rostro está formado por flores.





**Claude Monet**

Este cuadro muestra un campo de amapolas bajo un cielo luminoso. Monet es uno de los grandes pintores impresionistas, famoso por sus paisajes y su forma de pintar la luz y la naturaleza.



Los dados correctos

Solución



Anagramas  
- Especial historia -

Dificultad  
★ ★ ★

Las letras de cada palabra han sido mezcladas.  
Vuelve a ponerlas en el orden correcto para encontrar la palabra escondida.

REMAPTIZER	▶	<input type="text"/>
MADEVILE	▶	<input type="text"/>
RANOMSO	▶	<input type="text"/>
R FAÓAN	▶	<input type="text"/>
PIRÁMDEI	▶	<input type="text"/>
GADILADOR	▶	<input type="text"/>
MAROCAN	▶	<input type="text"/>
ROEVLUCIÓN	▶	<input type="text"/>
IMIPEOR	▶	<input type="text"/>
RFOTLEZAA	▶	<input type="text"/>



## Sumito

Dificultad



Completa la cuadrícula con cifras del 0 al 9.  
Las sumas deben corresponder a los números indicados:

- la suma de las casillas que tocan un lado de los bloques coloreados es igual al número escrito en esos bloques (una esquina no cuenta)
- la suma de cada fila y de cada columna corresponde a los números indicados.

	4	5	3	4	4
4		5			
5			5		
4				4	
3	3				
4					1

	10	7	6	7	11
10		8			
9			8		
5	3				9
10				9	
7		7			

	14	11	10	16	16
14			13		
12	12			18	
14		14			
13			16		16
14		13			

	21	14	17	19	16
23		16			
12			21		12
16	11			17	
19		18			
17			14		



## Dibujo para completar

Dificultad



Colorea, completa, añade, dibuja... ¡deja que hable tu creatividad!

